


**Sem vpíš alebo dokresli odpovede. Píš tmavým perom na predpísané čiary.
Ak urobíš do štvorčeka vpravo krížik, znamená to, že si si svojou odpoveďou istý/á.**

1. Plavba



2. Raja

a) Počet úplne zakrytých červených rybiiek: _____

b) Počet úplne zakrytých modrých rybiiek: _____

c) Počet úplne zakrytých zelených rybiiek: _____

3. Hodina plávania

a) Počet žiakov v každej skupine po všetkých presunoch: _____

b) Počty žiakov po prvom rozdelení:










skupina delfínov _____, skupina lososov _____, skupina šťúk _____

4. Majster ponoru

Meno	Maksík	Zina	Timo	Leo	Ema
Umiestnenie					

5. Rybky kolorky

*prvá kolorka,
ktorú Maksík odfočil*



1 2 3 4 5

Hodnotenie:

--	--	--	--	--

Hodnotil/a: